




Naam: \_\_\_\_\_

**Opdracht 1:** Waar kan ik het meest voordelig **12 oliebol** kopen?

De actie van oliebolkraam 1 is: **6 halen, 5 betalen. Een oliebol kost €0,60.**

De actie van oliebolkraam 2 is: **Je krijgt bij ons 20 procent extra! Een zak met 12 oliebol** kost €5,50.

De actie van oliebolkraam 3: **3 oliebol** voor €1,25! Zakje poedersuiker gratis.

		
<b>1</b>	<b>2</b>	<b>3</b>
Mijn manier:	Mijn manier:	Mijn manier:

**Opdracht 2:** Actie: Je krijgt 25 procent extra! Hoeveel krijg je dan?

12 oliebol + \_\_\_\_\_ = \_\_\_\_\_ oliebol

16 oliebol + \_\_\_\_\_ = \_\_\_\_\_ oliebol

20 oliebol + \_\_\_\_\_ = \_\_\_\_\_ oliebol

32 oliebol + \_\_\_\_\_ = \_\_\_\_\_ oliebol

Naam: \_\_\_\_\_

**Opdracht 3:** Sparen bij de bank.

Je hebt:	Je krijgt 5% rente, hoeveel krijg je erbij?	Totaalbedrag:
€100		
€120		
€200		
€260		
€220		
€140		
€1000		



**Opdracht 4:** Vul de antwoorden in.

€50	20 % erbij	€ .....
€66	10 % erbij	€
€96	50 % erbij	€
€160	25 % erbij	€
€20	90 % erbij	€
€50	40 % erbij	€
€160	5 % erbij	€
€88	10 % erbij	€
€105	50 % erbij	€
€60	75 % erbij	€

**Opdracht 5:** Geef de procenten en breuken die bij elkaar horen dezelfde kleur.

75 %	80 %	5 %	20 %	100 %	60 %	33,33 %
4	1	3	1	3	1	1
-	-	-	-	-	-	-
5	20	5	3	4	1	5

